



Задание 1. Какое международное соглашение иллюстрирует эта известная карикатура?

Когда оно подписано?

Какие страны в нём участвовали?

Судьбу какой страны они решили?

С какой страной на этом же совещании Германия заключила договор о ненападении?

Задание 2. Когда началась Вторая Мировая война?

Какие европейские страны были оккупированы Германией с начала войны до июня 1941 года?

Какая из этих стран дольше всех сопротивлялась до капитуляции перед Германией? Сколько дней?

За какое время Гитлер планировал разгромить Советский Союз?

Как назывался план захвата Советского Союза?

Что по плану Гитлера должно было возникнуть на месте Москвы?

На какую дату и после какого события было намечено объявление войны Советскому Союзу Японией?

Задание 3. В каком сражении впервые во Второй мировой войне удалось остановить наступление немецких войск? Укажите дату.

Какую директиву в тот же день вынужден был подписать Гитлер? В чём ее суть?

Как изменились планы Японии после подписанной Гитлером «Директивы»?

Задание 4. До какого числа продолжались оборонительные бои Красной Армии против немецко-румынских захватчиков на территории МССР в 1941 году? Какой населённый пункт был оккупирован последним?

За какое время немецкое командование рассчитывало уничтожить все пограничные комендатуры на молдавско-румынской границе и захватить все мосты?

Сколько дней молдавские пограничники отражали атаки противника несмотря на пятикратное превосходство вражеских сил?

Задание 5. Назовите имена пограничников Молдавского пограничного округа, отличившихся при охране государственной границы в первые дни войны и получивших звание Героя Советского Союза в 1941 году. На каких погранзаставах сражались эти герои?

Задание 6. Воздушные бои начались в первые же минуты войны. Неожиданностью для гитлеровцев стала решимость, с которой советские лётчики шли на таран. Этот приём воздушного боя, применявшийся в чрезвычайных ситуациях, немецкие лётчики объясняли исключительно «русским безрассудством». Кто и когда впервые совершил воздушный таран в годы Великой Отечественной войны?

Кто повторил этот подвиг 7 июля 1941 года в небе Молдавии?

Кто первым из авиаторов совершил в годы Великой Отечественной войны огненный таран наземной цели? Когда это произошло (назовите дату)?

29 июня 1941 г. командир эскадрильи 55-го истребительного авиаполка, базировавшегося в Бельцах, повторил этот подвиг, направив свой горящий самолёт в скопище вражеской техники. Назовите его имя.



Задание 7. Лётчик-истребитель, уроженец Молдовы, совершил воздушный таран 26 июня 1941 г. в районе Бельц. Совершивший аварийную посадку повреждённый «юнкерс» был добит на земле. А МиГ-3, также получивший повреждения, лётчик довёл до своих и совершил посадку. Погиб герой 29 июня 1941 г., вступив в бой с десятью «мессершмиттами». В неравном воздушном бою был сбит возле родного села, где и похоронен. Назовите его имя и место гибели.



Лётчик Отдельной авиаэскадрильи связи первый вылет совершил в 14 лет, а первую награду получил в 15 лет. Всего за время войны он совершил более 650 вылетов, удостоен трёх боевых орденов. Назовите имя этого юного лётчика.



Известный лётчик-асс свою первую победу одержал в небе Молдавии. 26 июня 1941 года в неравном бою против 5-ти "мессершмиттов" в районе реки Прут ему удалось сбить один вражеский истребитель, однако и сам он был подбит, но сумел дотянуть на неисправной машине до своих и посадить её на аэродроме. Назовите имя этого прославленного Героя.



Задание 8. В феврале 1943 года рядовой гвардейского стрелкового полка в бою за деревню Чернушки (Калининская область) закрыл телом амбразуру пулеметного дзота фашистов, препятствовавшего продвижению подразделения. Назовите имя Героя. Сколько лет ему было в момент совершения подвига?




Аналогичный подвиг, вошедший в историю под его именем, за годы Великой Отечественной войны совершили, по разным оценкам, от 200 до 450 бойцов Красной Армии.

Кто был самым первым Героем, закрывшим своим телом ствол вражеского пулемета еще в августе 1941 года при штурме Кирилловского монастыря в районе Новгорода?



Назовите имя Героя Советского Союза, уроженца Молдовы, повторившего этот подвиг в феврале 1945 года при освобождении Польши, закрывшего амбразуру своим телом, чем способствовал выполнению боевой задачи подразделения.

Задание 9. Назовите имена бойцов Красной Армии, повторивших этот подвиг (закрывших своим телом вражескую амбразуру) в ходе Яско-Кишинёвской операции. Укажите также населённый пункт, при освобождении которого это произошло.



Задание 10. Будущий прославленный маршал в 15 лет отправился на фронт Первой мировой войны, а в 16 лет уже получил свой первый Георгиевский крест. Великую Отечественную войну встретил в Молдавии командиром стрелкового корпуса. Назовите имя этого полководца.

В каких наступательных операциях и какими воинскими формированиями он командовал в боях за освобождение Молдавии?



Задание 11. На фото – «Аллея Героев», расположенная в северо-восточной части Мемориала «Вечность» в Кишинёве, – обелиск, увенчанный звездой Героя, и гранитные плиты с именами «наших соотечественников, получивших звание Героя Советского Союза за героизм, проявленный на фронтах второй Мировой Войны». На одной из плит имя маршала, получившего ещё в I Мировую три солдатских Георгиевских креста. Назовите имя этого прославленного маршала.

Какую роль он сыграл в ходе Яско-Кишинёвской операции?

Задание 12. В годы Великой Отечественной войны важнейшим инструментом идеологической борьбы стали карикатуры и плакаты. Восстановите хронологию событий, которые высмеивает художник, указав около каждой карикатуры год, к которому они относятся.



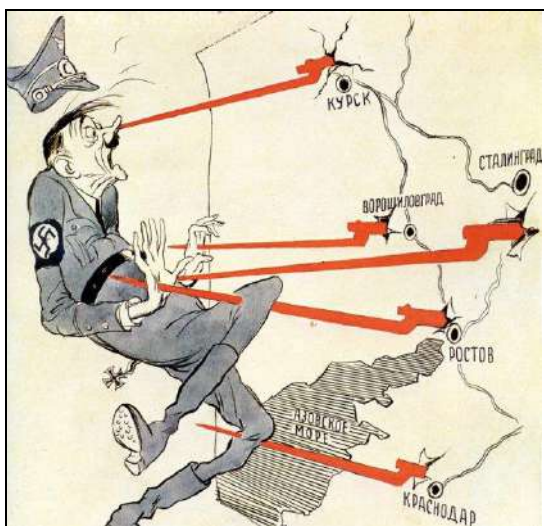
**ИЗ ГОРЛА НЕ ГОЛОС-
ЗВЕРИНЫЙ КРИК.**

**РУХНУЛИ ПЛАНЫ
СОРВАЛСЯ „БЛИЦ-КРИГ“.**

19 год



19 год




19 год



19 год




19 год



19 год



19 год



19 год

Задание 13. Гитлер заявлял: «Мы обязаны истреблять население... Нам придется развить технику обезлюдивания...» Как назывался план физического истребления народов Восточной Европы, объявленных расово неполноценными («Недочеловеками»)?

Назовите несколько методов истребления населения, предусмотренных этим зловещим «Планом».

Задание 14. Подготовленный план предполагал решение экономических проблем с помощью так называемых «депортаций населения». Каковы были планы относительно разных национальных групп? Установите соответствие, выбрав для каждой группы одну из следующих предполагаемых мер:

1. депортировать 80-85% населения
2. депортировать 75% населения
3. депортировать 65% населения
4. подорвать биологическую силу народа
5. уничтожить полностью

Национальные группы: Поляки ___ Белорусы ___ Украинцы ___
Русские ___ Евреи ___ Цыгане ___



Задание 15. На фото – памятник жертвам фашизма. В каком городе он установлен?

Чем был обусловлен выбор места для его установки?

В каком городе в сентябре 1941 года произошёл самый кровавый эпизод фашистского геноцида на территории Молдавии?

Сколько лагерей и гетто было создано на территории Бессарабии в августе 1941года?

Задание 16. Укажите дату (в формате XX.XX.XX), когда произошли следующие события. Например, если событие происходило 7 августа 1941 года, вы должны указать: 07.08.41

А) Выступление на заседании румынского правительства генерала Михая Антонеску: *«Рискуя остаться непонятым некоторыми традиционалистами, я выступаю за принудительное выселение евреев из Бессарабии и Буковины. Я также выступаю за принудительное изгнание украинского элемента, которому теперь нечего здесь искать... Я не знаю, когда, через сколько столетий, румынская нация снова обретет такую же полную свободу действий для своей этнической чистки. Сегодня мы — хозяева своей территории. Мы этим воспользуемся. Мне все равно, войдем ли мы в историю как варвары... Для нас еще не было более подходящего момента в истории. Если надо, стреляй из пулемета...»*

Б) Распоряжение румынского диктатора Иона Антонеску о создании концентрационных лагерей и гетто в Бессарабии.

В) Решение о создании еврейского гетто в Кишинёве.

Г) Решение об организации еврейских концентрационных лагерей в Транснистрии.

Д) Директива о депортации евреев в Транснистрию и инструкция начальникам лагерей о том, как её проводить (пешим ходом под конвоем румынских солдат).

Е) Доклад губернатора Бессарабии генерал-майора К. Войкулеску: «В Бессарабии еврейский вопрос окончательно решен», то есть она полностью очищена от евреев.

Задание 17. Укажите название битвы (стратегической операции), в результате которой:

- был сорван план блицкрига _____
- начался коренной перелом в ходе войны _____
- завершился коренной перелом в ходе войны _____
- началось освобождения Балкан _____
- немецкие войска понесли наибольшие потери _____

Задание 18. Укажите число и месяц (в формате XX.XX.XX), когда происходили основные события 1943 года. Например, если событие происходило 7 августа, вы должны указать: 07.08.43

- Освобождение Орла и Белгорода _____
- Начало форсирования Днестра, создание первого плацдарма на его правом берегу _____
- Высадка англо-американского десанта в Сицилии _____
- Освобождение от фашистов Харькова _____
- Капитуляция немецкой армии под Сталинградом _____
- Танковое сражение под Прохоровкой _____
- Освобождение Киева _____
- Тегеранская конференция _____
- Италия объявляет войну Германии _____
- Начало немецкого наступления на Курской дуге _____
- Освобождение Курска армией И.Д. Черняховского _____
- Начало советского наступления от Чёрного моря до Витебска, прорыв в районе Невеля _____

Задание 19. Укажите число и месяц (в формате XX.XX.XX), когда происходили основные события 1944 года. Например, если событие происходило 7 августа, вы должны указать: 07.08.44

- Выход из войны Финляндии _____
- Государственный переворот и выход из войны Румынии _____
- Открытие союзниками Второго фронта _____
- Выход советских войск на государственную границу СССР _____
- Выход на линию довоенной советско-финской границы _____
- Выход советских войск на берег Рижского залива _____
- Завершение разгрома окружённой немецкой группы армий «Центр» _____
- Покушение на Гитлера _____
- Парад побеждённых в Москве _____
- Начало операции «Багратион» _____
- Завершение освобождения Крыма _____
- Полное снятие блокады Ленинграда _____
- Начало освобождения Карелии _____
- Завершение освобождения Украины в ее довоенных границах _____
- Полное освобождение Риги _____
- Освобождение Таллина _____
- Освобождение последнего из Моонзундских островов _____
- Освобождение Белграда _____
- Завершено освобождение Заполярья _____
- Советский морской десант занял главную военно-морскую базу Румынии _____

Задание 20. Знаменитый советский полководец прославился не только, как военный, но и как дипломат. Именно после разговора с ним румынский король Михай арестовал диктатора Антонеску, а потом получил из его рук орден «Победа».



Задание 21. Во время Великой Отечественной войны в тылу немецких войск действовало свыше 6200 партизанских отрядов и подпольных групп, в которых сражалось свыше 1 млн. человек. Назовите имя знаменитого командира партизанской дивизии, дважды Героя Советского Союза.

Какой форме партизанской войны он отдавал предпочтение? _____

Как называлась крупнейшая операция партизан на территории Белоруссии, Прибалтики и северо-западных областей РСФСР, в результате которой было практически полностью парализовано движение немецкого транспорта? _____



Когда она проводилась? _____

Назовите имя Героя Советского Союза, уроженца Молдовы, ставшего командиром партизанского соединения на Украине. _____

Как называлось соединение, которое он возглавил в декабре 1943 года? _____

Задание 22. В Молдавии, по официальным данным, уже в 1941 году начали действовать более 140 партизанских отрядов. Летом 1943 года были созданы молдавские партизанские соединения, боевая деятельность которых получила высокую оценку маршалов Р.Я. Малиновского и С.С. Бирюзова. Напишите названия нескольких партизанских отрядов, действовавших на территории Молдовы, указав имя командира отряда и район его боевых действий.



Задание 23. Назовите самое массовое орудие в истории мировой артиллерии? _____

Когда оно было принято на вооружение? _____

Кто был конструктором этого орудия? _____

Расшифруйте название этой пушки ставшей грозой бронетанковых войск и пехоты противника. _____

Какие прозвища получила она от артиллеристов? _____

Эта пушка, ставшая одним из ярких символов Победы Красной Армии в Великой Отечественной войне, установлена в качестве памятника в нескольких населённых пунктах Молдовы. Перечислите их. _____



Задание 24. Гитлер однажды сказал: «Если бы я знал, что какой-то кондитер в России сможет создать такой танк, я бы войну не начинал». Кого и почему он называл «кондитером»? О каком танке говорил?

Этот легендарный танк – один из самых узнаваемых символов Второй мировой войны. Поэтому они используются во многих странах в качестве памятников.

Перечислите населённые пункты Молдовы, в которых установлены эти боевые машины.

В чём особенность памятника-танка, установленного в городе Корнешты? Расшифруйте название этого танка.

Задание 25. Когда и сколько танков было произведено во время войны на средства, собранные жителями Молдавии? Как они назывались?

Задание 26. Какое немецкое оружие, появившееся в 1943 году, сильно осложняло применение танков в городских условиях?

Какое специфическое техническое средство было использовано в самом начале Берлинской операции? С какой целью?

Какой новый тактический приём использовали советские войска в специфических городских условиях при взятии Берлина?

С какой целью при штурме Берлина солдаты одного из батальонов передвигались по крышам домов?

Кто был автором этого оригинального манёвра?

Назовите командующих фронтами во время Берлинской операции



Задание 27. Назовите имя легендарного комбата, возглавлявшего ударный батальон, бойцы которого первыми прорвались к Рейхстагу и овладели основной его частью.

Когда это произошло? (Укажите точную дату)

Когда воины батальона водрузили над Рейхстагом штурмовой флаг дивизии, ставший впоследствии Знаменем Победы?

Расшифруйте надпись, появившуюся на штурмовом флаге уже после того, как он был снят с Рейхстага



Почему на Параде Победы Знамени Победы не было?



Задание 28. Что написано на немецком штандарте, который во время Парада Победы был первым брошен к подножию Мавзолея В.И. Ленина?

Кто командовал Парадом Победы?

Кто принимал Парад?

Когда состоялся Парад?

Задание 29. Отметьте европейские страны, на территории которых сражались Советские войска в годы Второй мировой войны.

- | | | | |
|----------------|----------|-----------|-----------|
| Австрия | Греция | Польша | Хорватия |
| Албания | Италия | Румыния | Чехия |
| Болгария | Китай | Словакия | Югославия |
| Великобритания | Корея | Финляндия | Япония. |
| Венгрия | Норвегия | Франция | |

Задание 30. Укажите страны, которые в 1941-1942 гг. были союзниками фашистской Германии.

Укажите страны, которые остались союзниками Германии в конце 1944 г.

Укажите страну, с которой СССР заключил первое соглашение о совместных действиях в войне против Германии.

Задание 31. Какая немецкая армия за годы Второй Мировой войны была дважды разгромлена и трижды сдавалась в плен?

Когда и где это происходило?

Какая армия, численностью более 800 тысяч, в годы Второй Мировой войны была полностью уничтожена за 12 дней?

Кто возглавил эту победоносную операцию?

Задание 32. Перед вами документальные фото трёх важнейших исторических событий. Напишите название, дату (месяц, год) и участников каждого события.



1.



2.



3.

1. – _____
 2. – _____
 3. – _____

Задание 33. Какие решения были приняты на международных конференциях глав правительств СССР, США и Великобритании? Решения Тегеранской конференции отметьте цифрой «1», Ялтинской – цифрой «2», Потсдамской – цифрой «3». Вопросы, которые не рассматривались ни на одной из конференций, отметьте цифрой «0». Решения нескольких конференций отметьте несколькими цифрами через запятую.

- Принято решение об открытии второго фронта в Европе _____
- Принято решение о распространении на СССР программы ленд-лиза _____
- Решение о создании Организации Объединённых Наций _____
- Определение новой польско-германской границы _____
- Согласование принципов безоговорочной капитуляции Германии _____
- Решение передать главных военных преступников суду Международного трибунала _____
- Обязательство СССР вступить в войну с Японией после разгрома Германии _____
- Решение о создании репарационной комиссии _____
- Согласование принципов работы руководящих органов ООН _____
- Определение восточной границы Польши _____
- Определение условий и срока вступления СССР в войну с Японией _____
- Раздел Германии на оккупационные зоны _____
- Согласовано решение о передаче СССР Кенигсберга (ныне Калининград) _____
- Согласован план Берлинской операции _____
- Обсуждались вопросы послевоенного устройства Европы _____
- Обсуждались вопросы атомной бомбардировки Японии _____
- Решение о разделе Восточной Пруссии между Польшей и СССР _____

Задание 34. Кто и в каком году дал следующую оценку русскому народу:
«Под руководством маршала Иосифа Сталина русский народ показал такой пример любви к родине, твердости духа и самопожертвования, какого еще не знал мир. После войны наша страна всегда будет рада поддерживать отношения добрососедства и искренней дружбы с Россией, чей народ, спасая себя, помогает спасению всего мира от нацистской угрозы.»

Насколько актуально это суждение сегодня? Напишите ваше мнение (не более 10 предложений).