

Посольство Российской Федерации в Республике Молдова
Конгресс русских общин Республики Молдова
Русский интеллектуальный центр
Лига русских студентов



Конкурс
«Героические страницы истории России»
I тур

Дорогие друзья!

*Приглашаем вас принять участие в конкурсе, посвященном **Великой Победе** всех народов бывшего Советского Союза в войне с фашизмом, 60-летие которой в этом году будет отмечать все прогрессивное человечество. У большинства из нас есть родственники, участвовавшие или погибшие в этой страшной войне. Самое малое, что мы можем сделать в память о тех, кто завоевал нашу свободу, – это показать, что мы помним об их Великом Подвиге! Надеемся, что этот конкурс поможет вам больше узнать и о других героических и драматических событиях прошлого России. Для участия в нём не требуется знания полного курса истории России. Круг вопросов I и II туров ограничен событиями военной истории и борьбы россиян с иностранными завоевателями.*

I тур – заочный. Это значит, что ответы на вопросы можно искать в справочной и учебной литературе или воспользоваться Интернетом. Для тех, кто ответит верно на большинство вопросов I тура, будет задано несколько тем для подготовки ко II туру, который будет проходить в форме устной викторины.

Условия конкурса и вопросы I тура вы можете найти также на сайте www.krorm.ru

На вопросы, отмеченные знаком «», учащиеся 8-9 классов могут не отвечать.*

Отвечая на вопросы заочного тура, будьте внимательны. Любые исправления (зачеркивания, использование корректирующей жидкости, резинки) не допускаются. Если вам не удастся ответить на все вопросы, не надо расстраиваться. Некоторые из них действительно трудные, но и отмечать ответы «наудачу» тоже не стоит, так как за неправильные ответы баллы будут снижаться.

*Победителей конкурса ждут призы, памятные подарки, а главное – **десятидневная поездка по историческим местам России.***

Желаем успеха! До встречи на заключительном II туре.

Задание 7. Назовите имена исторических личностей, о которых идет речь в следующих стихотворных строчках Н. Кончаловской.

Пускай у русских меньше сил,
Но страха Коловрат не знает,
Уже свой меч он затупил,
Он меч монгольский поднимает.

(2 балла)

Как раздался взрыв могучий,
И стена взлетела тучей,
С вихрем огненным взвилась, -
И царю Казань сдалась.

(2 балла)

Добрый памятник поставлен
Двум героям всей страной
В знак того, что был избавлен
От бесчестья край родной.

(2 балла)

Задание 8. О каких сражениях говорят стихотворные строки. Назовите их дату, участников и победителей.

И, только выждав, чтоб ливонцы,
Смешав ряды, втянулись в бой,
Он, полыхнув мечом на солнце,
Повел дружину за собой.
Подняв мечи из русской стали,
Нагнув копейные древки,

Из леса с криком вылетали
Новгородские полки.
По льду летели с лязгом, громом,
К мохнатым гривам наклонясь,
И первым на коне огромном
В немецкий строй врубился князь.

(К. Симонов)

(2 балла)

Ну ж был денек! Сквозь дым летучий
Французы двинулись, как тучи,
И все на наш редут.
Уланы с пестрыми значками,
Драгуны с конскими хвостами,
Все промелькнули перед нами,
Все побывали тут.

Вам не видать таких сражений!..
Носились знамена, как тени,
В дыму огонь блестел,
Звучал булат, картечь визжала,
Рука бойцов колоть устала,
И ядрам пролетать мешала,
Гора кровавых тел.

(М.Ю. Лермонтов)

(2 балла)

Задание 9. Кто изображен на портретах? Какую роль сыграли эти личности в российской истории? Каковы их заслуги перед Отечеством?

(6 баллов)



(6 баллов)



Задание 17. Восстановите хронологическую последовательность событий.

- | | |
|---|--|
| <input type="checkbox"/> переход Наполеона через Неман | <input type="checkbox"/> Шевардинское сражение |
| <input type="checkbox"/> Бородинское сражение | <input type="checkbox"/> совет в Филях |
| <input type="checkbox"/> назначение М.И. Кутузова главнокомандующим | <input type="checkbox"/> Смоленское сражение |

(6 баллов)

Задание 18. О каком сражении генерал А.П. Ермолов сказал: «Французская армия расшиблась о русскую армию»? (правильный ответ подчеркните)

- Смоленское сражение
- Шевардинский бой
- Бородинское сражение

(2 балла)

Задание 19. Кто занимал пост главнокомандующего русскими армиями до М. И. Кутузова в Отечественной войне 1812 г.? (правильный ответ подчеркните)

- | | |
|---------------------------|--------------------|
| а) Александр I; | г) П.И. Багратион; |
| б) М.Б. Барклай де Толли; | д) П.В. Чичагов; |
| в) Л.Л. Бенигсен; | е) никто. |

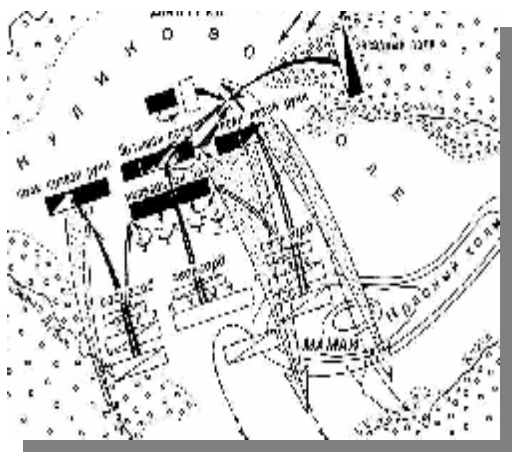
(3 балла)

Задание 20*. Дунайской армией в Отечественную войну 1812 г. командовал ... (правильный ответ подчеркните)

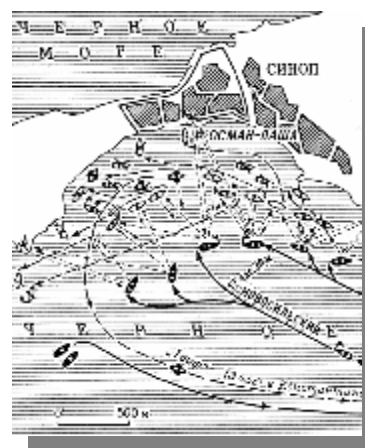
- генерал от инфантерии М.Б. Барклай де Толли,
- генерал от кавалерии А.П. Тормасов,
- адмирал П.В. Чичагов
- генерал от инфантерии П.И. Багратион,

(3 балла)

Задание 21. Схемы, каких сражений изображены на картах? Назовите их дату, участников и победителей.



(1)



(2)

1. _____

 _____ (3 балла)

2. _____

 _____ (3 балла)

(3 балла)

Задание 22. О какой войне идёт речь в высказывании?

«Но тут в первый ряд выдвигаются три вождя: Гурко, Радецкий, Скобелев. Все трое – люди железной воли. В свои энергичные руки принимают они ведение войны...»

(2 балла)

Задание 23. Отметьте знаком «*» условия Сан-Стефанского мирного договора.

- Болгария получила статус автономного княжества.
- Полная независимость Сербии, Черногории и Румынии.
- Территориальное приращение Сербии, Черногории и Румынии.
- Сокращение территории Сербии и Черногории.
- Право Австро-Венгрии на оккупацию Боснии и Герцеговины
- Возвращение России Южной Бессарабии.
- Передача под власть Турции Южной Болгарии.
- Передача России Карской области на Кавказе.
- Право Англии на ввод войск на Кипр.

(10 баллов)

Задание 24*. Подчеркните имя адмирала, командующего Тихоокеанским флотом, погибшего на броненосце «Петропавловск» в ходе войны с Японией:

- С.О. Макаров
- В.К. Витгофт
- З.П. Рожественский

(3 балла)

Задание 25. Особенность военной операции, вошедшей в историю Первой мировой войны как «Брусиловский прорыв», заключается в том, что... (правильный ответ подчеркните)

- глубина прорыва доходила до 120 км;
- войска Брусилова продвигались со скоростью 6,5 км в сутки;
- впервые в условиях позиционной войны наступал целый фронт;
- австрийцы потеряли около 1,5 млн. убитыми, ранеными и пленными.

(3 балла)

Задание 26*. Возможность предотвратить фашистскую агрессию в союзе с умеренными западными демократиями видел(и) ... (правильный ответ подчеркните)

- В.М. Молотов;
- В.М. Молотов и И.В. Сталин;
- И.В. Сталин и Г.М. Маленков;
- Г.М. Маленков и М.М. Литвинов;
- М.М. Литвинов и М.Н.Тухачевский.

(3 балла)

Задание 27. Следствие внезапности нападения немецко-фашистских войск на СССР в 1941 г. - (правильный ответ подчеркните):

- потеря большей части советских боевых кораблей;
- добровольная массовая сдача в плен советских солдат;
- быстрый захват немецкой авиацией полного господства в воздухе;
- гибель большей части командования РККА;
- полная утрата управляемости народным хозяйством страны.

(3 балла)

Задание 33. Приведите в соответствие имена и факты:

- Первое крупное поражение немецкой армии
- Операция «Багратион»
- Яско-Кишинёвская операция
- Восточно-Прусская операция

- И.Х.Баграмян
- С.К.Тимошенко
- И.Д. Черняховский
- Г.К. Жуков

(4 балла)

Задание 34. Укажите, на территории каких современных государств произошли следующие сражения и военные операции:

- Нарвское сражение
- Полтавская битва
- Битва при Фокшанах
- «Битва народов»
- Операция «Багратион»
- Курская битва


(6 баллов)

Задание 35. Каким орденом награждали в России исключительно за воинскую храбрость? (правильный ответ подчеркните):

- Св. Александра Невского;
- Св. Владимира;
- Св. Георгия Победоносца.

(3 балла)

Задание 36. Определите, где и в честь каких исторических событий поставлены памятники, изображенные на фотографиях



(1)



(2)



(3)

(6 баллов)

Задание 37. На гранитных плитах этого монумента написано ... (правильный ответ подчеркните)



- Павшим воинам Великой Отечественной войны.
- Никто не забыт, ничто не забыто.
- Вечная память павшим в боях за Родину!
- Неизвестному солдату.
- Имя твоё неизвестно, подвиг твой бессмертен.

(6 баллов)